

Nombre: _____

Fecha: _____

1. Escribe el número anterior y posterior a cada número:

	27	
--	----	--

	49	
--	----	--

	52	
--	----	--

	18	
--	----	--

	60	
--	----	--

	40	
--	----	--

	86	
--	----	--

	39	
--	----	--

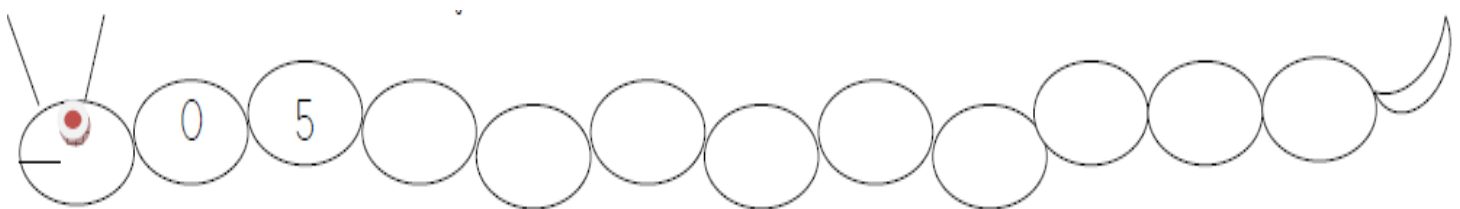
	70	
--	----	--

2. Ordena de menor a mayor:

12 - 48 - 5 - 59 - 20 - 77

<	<	<	<	<
---	---	---	---	---

- Cuenta de 5 en 5:



3. Escribe < o > según corresponda:

50 ○ 32

80 ○ 86

89 ○ 90

34 ○ 45

98 ○ 99


63 ○ 69

69 ○ 71

75 ○ 70


98 ○ 89

4. Observa y escribe cuántos lápices tiene cada niño:




Tengo 3 decenas
y 5 unidades

Tiene lápices




Tengo 6 decenas
y 4 unidades

Tiene lápices



Tengo 3 decenas
Y 11 unidades

Tiene lápices



Tengo 2 decenas
Y 44 unidades

Tiene lápices

4. Rodea todos los números que necesites para sumar 34:

2	4	5	4	3	7	2	4	5	4	3	7
8	8	9	5	2	2	8	8	9	5	2	2
2	3	8	1	7	4	2	3	8	1	7	4
6	8	8	8	1	3	6	8	8	8	1	3
9	8	1	2	1	1	9	8	1	2	1	1
3	5	4	4	3	2	3	5	4	4	3	2
6	7	4	3	7	4	6	7	4	3	7	4

5. Completa

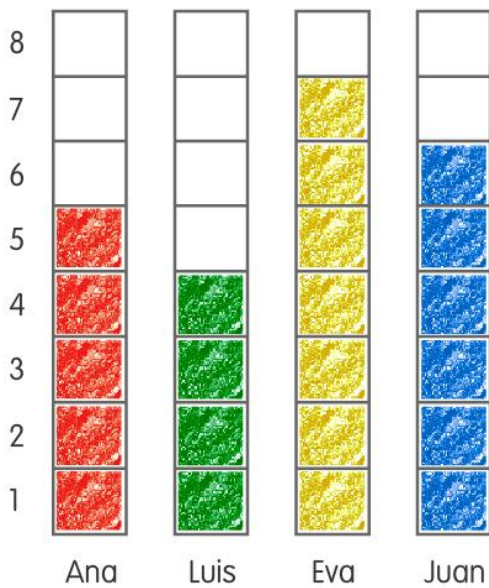
$4 + \underline{\quad} = 14$
$\underline{\quad} + 8 = 17$
$6 + \underline{\quad} = 15$

$4 + \underline{\quad} = 13$
$5 + \underline{\quad} = 15$
$6 + \underline{\quad} = 16$

$\underline{\quad} + 8 = 18$
$5 + \underline{\quad} = 14$
$9 + 6 = \underline{\quad}$

$10 - 3 = 7$	$10 - 4 = \underline{\quad}$	$10 - 6 = \underline{\quad}$	$10 - 2 = \underline{\quad}$	$10 - 9 = \underline{\quad}$
$10 - 8 = \underline{\quad}$	$10 - 7 = \underline{\quad}$	$10 - 1 = \underline{\quad}$	$10 - 3 = \underline{\quad}$	$10 - 5 = \underline{\quad}$

6. Mira el gráfico y completa cuántos libros ha leído cada niño.



Ana ►

Luis ►

Eva ►

Juan ►

¿Cuántos libros han leído en total las chicas?

¿Y los chicos?

7. Sumas y restas:

$43 + 17 =$	$35 - 21 =$
$90 - 30 =$	$56 + 16 =$

8. Completa las casitas:

